

- 1** Em uma festa de aniversário, as crianças receberam fichas para participar de uma brincadeira. Na hora de brincar, elas foram chamadas por ordem crescente dos números recebidos.

Enzo

210

Lucas

120

Marcelo

102

Gabriela

201

Escreva os nomes das crianças na ordem em que foram chamadas.

- 2 Veja as decomposições que os alunos Luiz, Mateus, Lara e Fabiana fizeram do número 78:

LUIZ $\Rightarrow 7 + 8$.

LARA $\Rightarrow 10 + 10 + 10 + 10 + 10 + 10 + 8$.

MATHEUS $\Rightarrow 10 + 10 + 10 + 10 + 10 + 10 + 10 + 8$.

FABIANA $\Rightarrow 20 + 50 + 3 + 6$.

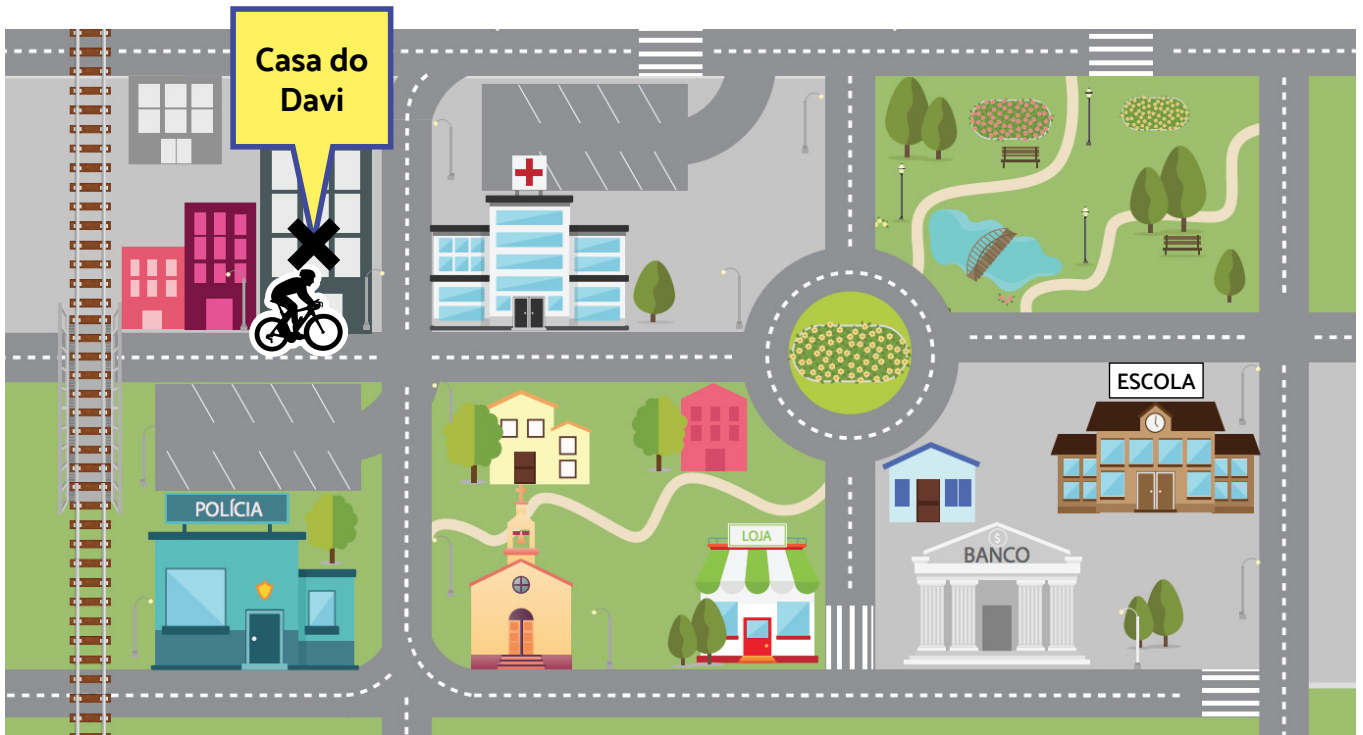
O aluno que realizou a decomposição correta foi:

- A) Luiz.
- B) Lara.
- C) Matheus.
- D) Fabiana.

- 3** Igor tem 35 bolinhas de gude, que guarda em uma caixa especial. Ele retirou 13 bolinhas da caixa, para brincar com o amigo. Quantas bolinhas continuaram na caixa?

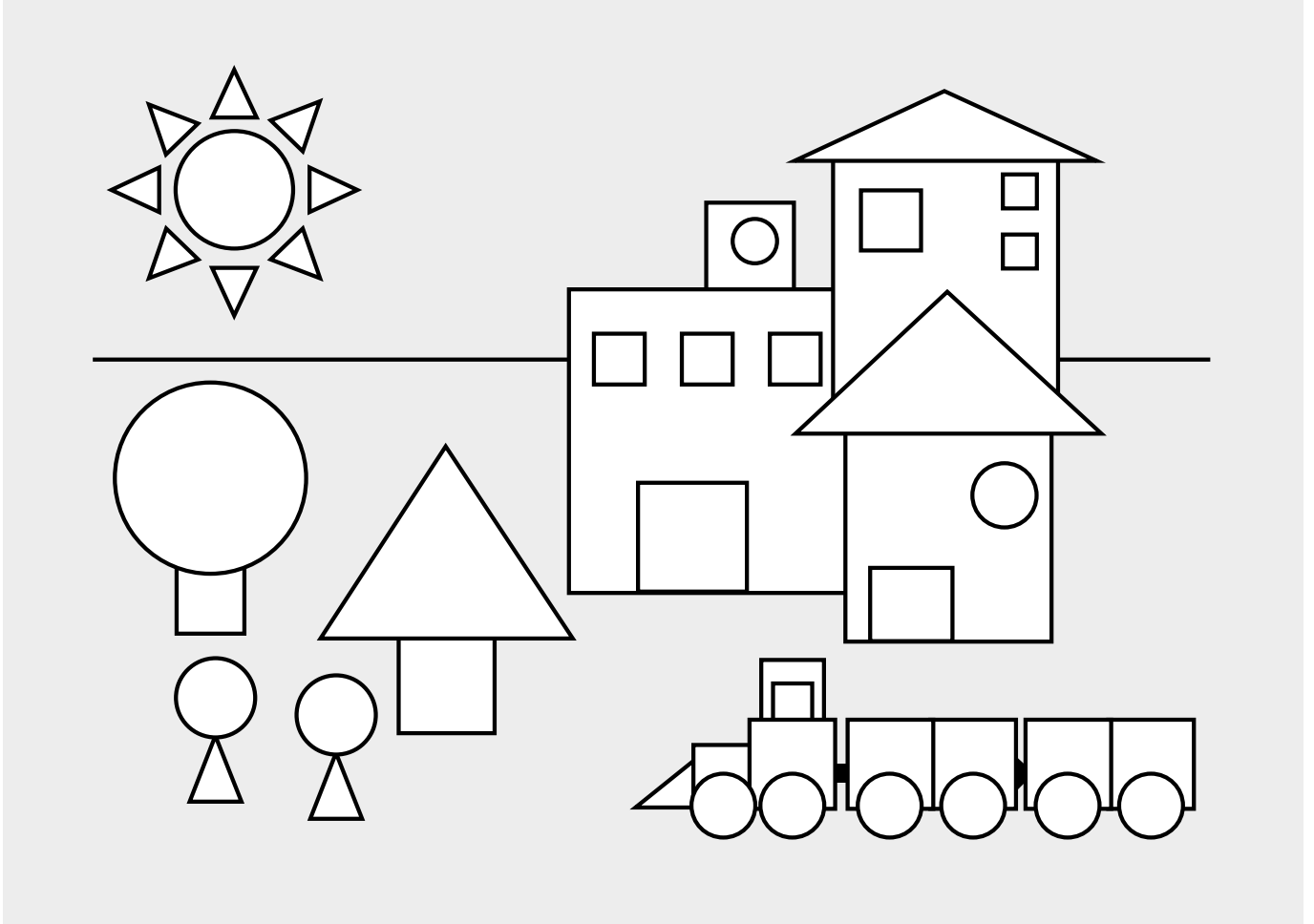
Mostre como você chegou a esse resultado.

- 4 Davi saiu de casa, pedalando sua bicicleta para ir à escola. No início do trajeto, Davi virou na primeira rua à sua direita.



- A) Indique, com lápis de cor, qual caminho Davi poderá seguir para chegar à escola.
(Lembre-se de que, logo no início, ele virou à direita.)
- B) Explique, por escrito, todo o trajeto indicado com lápis de cor.


5 Observe a imagem.




Pinte apenas os triângulos que aparecem nessa imagem.

- 6 A professora pediu aos alunos para medirem o comprimento do lápis, utilizando uma régua. Veja o modo como alguns alunos posicionaram o lápis para realizar a medição:


Luana



Pietro



Ian



A) Faça um X no nome de quem pode ter medido o lápis corretamente.

B) Explique como você chegou a essa resposta.

7 Veja o calendário do mês de novembro.



DOMINGO	SEGUNDA-FEIRA	TERÇA-FEIRA	QUARTA-FEIRA	QUINTA-FEIRA	SEXTA-FEIRA	SÁBADO
		1	2	3	4	5
6	7	8	9	10	11	12
13	14	15	16	17	18	19
20	21	22	23	24	25	26
27	28	29	30			

No dia 10 de novembro, Mateus entregará aos seus colegas um convite para a sua festa de aniversário. A festa acontecerá na última semana desse mesmo mês, em uma quarta-feira. Que dia será celebrada a festa de aniversário de Mateus?

- A) 10
- B) 23
- C) 29
- D) 30

8 Ana e Gabriela saíram de casa, cada uma, com uma quantia. Veja.

Dinheiro da Ana:



Dinheiro da Gabriela:



CONTINUA NA PRÓXIMA PÁGINA →

Ana e Gabriela saíram de casa com a mesma quantia? Explique como você chegou à sua resposta.

9 Leia a tabela que mostra o estoque de brinquedos da loja de dona Luíza:

Brinquedo	Quantidade
Carrinho	45
Boneca	15
Bola	52
Jogo de dama	25
loiô	51

De acordo com a tabela, é possível afirmar que o tipo de brinquedo em maior quantidade no estoque é:

- A) loiô.
- B) bola.
- C) carrinho.
- D) boneca.