

- 1** * Observe a imagem a seguir. Indique no retângulo TOTAL a quantidade de formigas que você contou. Registre como você fez para contar.



TOTAL:

* Equivale ao item 1 no caderno do professor

- 2** * Vovô Luís distribuiu bombons para as duas netas, Maria Eduarda e Lívia. A quantidade de bombons que cada uma recebeu está representada a seguir:

MARIA EDUARDA




LÍVIA



Lívia tem mais, menos ou a mesma quantidade de bombons que Maria Eduarda?
Explique como você chegou à resposta.

* Equivale ao item 2 no caderno do professor

- 3** * No início de um jogo, Gabriel recebeu as seguintes moedas e palitos.




Sabendo que cada moeda vale 1 ponto e cada palito vale 10 pontos, quantos pontos Gabriel recebeu ao iniciar o jogo?

* Equivale ao item 3 no caderno do professor


- 4** * Para decorar a festa de seu aniversário, Luíza foi a uma loja de artigos de festa. Como já tinha 12 balões vermelhos em casa, ela decidiu comprar 15 balões amarelos. Quantos balões Luíza tem no total? Explique como você chegou ao resultado.

* Equivale ao item 4 no caderno do professor

5 * Roberto tem o seguinte desenho.



Ana tem um desenho parecido, mas falta nele um vaso de flor.



Ana não viu o desenho de Roberto. Como você explicaria a ela onde está o vaso de flor no desenho de Roberto?


* Equivale ao item 5 no caderno do professor

- 6** * Crie um desenho bem alegre e colorido, usando as formas planas: círculo, quadrado, retângulo e triângulo. Capriche!

* Equivale ao item 6 no caderno do professor


- 7** * Nesta página, há o desenho de uma árvore. Na página seguinte, há o desenho de outra árvore. Observe-as.

ÁRVORE 1



* Equivale ao item 7 no caderno do professor

ÁRVORE 2



Agora, compare a altura e a largura das duas árvores fazendo medições com seu polegar.

- A)** Faça um X na árvore mais alta.
- B)** Pinte o tronco de árvore mais grosso.

- 8** * Alguns dias do mês de outubro de 2021 foram destacados no quadro a seguir.

OUTUBRO DE 2021			
DOMINGO	SEGUNDA-FEIRA	TERÇA-FEIRA	QUARTA-FEIRA
3	4	5	6

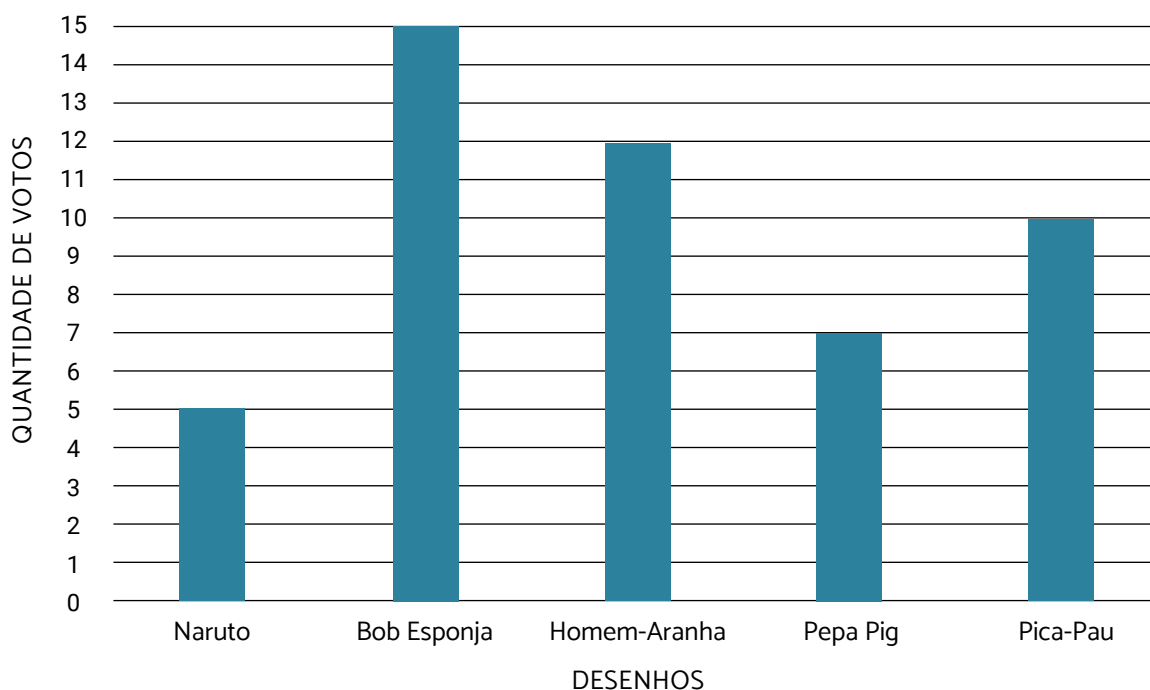
Com base nesse quadro, em que dia da semana será o dia 7 de outubro?

- A)** Domingo.
- B)** Sexta-feira.
- C)** Quinta-feira.
- D)** Sábado.

* Equivale ao item 8 no caderno do professor

- 9** * Os estudantes do 2º ano fizeram uma votação para saber quais eram os desenhos animados preferidos deles.

Desenhos preferidos da turma do 2º ano do Ensino Fundamental



O segundo desenho mais votado teve quantos votos?

- A)** 7 votos.
- B)** 10 votos.
- C)** 12 votos.
- D)** 15 votos.

* Equivale ao item 9 no caderno do professor