





1 * OBSERVE O NÚMERO A SEGUIR.

12

MARQUE COM X A ALTERNATIVA QUE MOSTRA A QUANTIDADE DE PIRULITOS INDICADA PELO NÚMERO ESCRITO ACIMA.

- A) 
- B) 
- C) 
- D) 

* Equivale ao item 2 no caderno do professor

2 * PELA MANHÃ, MARIANA REALIZA ALGUMAS ATIVIDADES, SEGUINDO ESTA ORDEM:

			
ACORDA	ESCOVA OS DENTES	FAZ O DEVER DE CASA	ALMOÇA

MARQUE A ALTERNATIVA QUE MOSTRA A ATIVIDADE QUE MARIANA FAZ **LOGO DEPOIS** DE ESCOVAR OS DENTES.

A)



B)



C)




D)




* Equivale ao item 3 no caderno do professor

3 * OBSERVE A FIGURA ABAIXO:



CIRCULE AS IMAGENS QUE TÊM SEMELHANÇA COM A FIGURA GEOMÉTRICA INDICADA ACIMA.



* Equivale ao item 4 no caderno do professor